

例題1

十角形の対角線の本数は何本ですか。

例題2

十角形の内角の和は何度ですか。

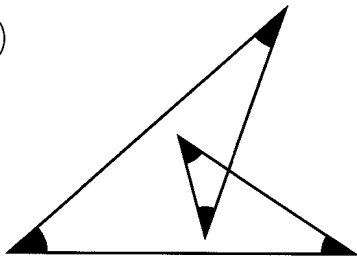
例題3

正九角形の1つの内角の大きさは何度ですか。

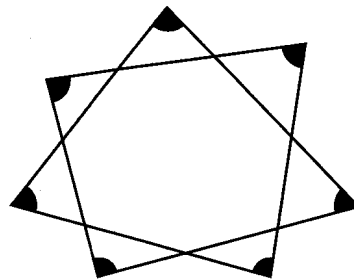
例題4

印をつけた角の大きさの和は、それぞれ何度ですか。

(1)



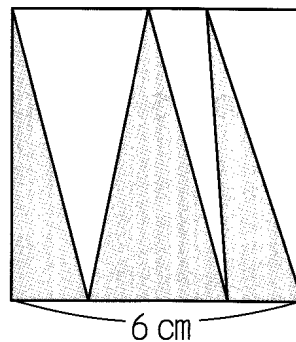
(2)



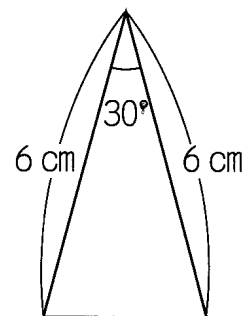
例題5

(1) (図1)は、正方形の中に直線を5本引いたものです。青い部分の面積の和は何 cm^2 ですか。

(図1)



(図2)



(2) (図2)の三角形の面積は何 cm^2 ですか。