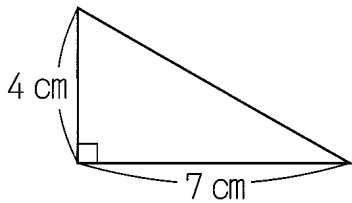


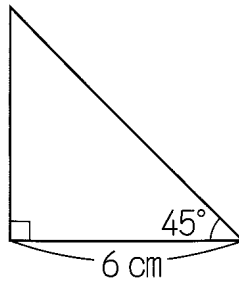
例題1

下の図の三角形の面積は、それぞれ何 cm^2 ですか。

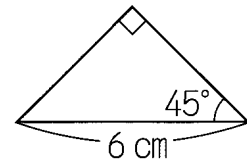
(1)



(2)



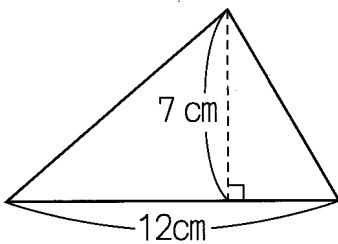
(3)



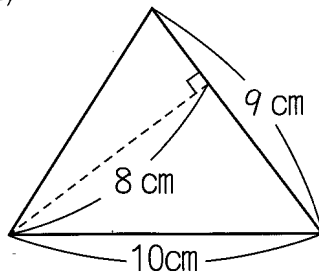
例題2

下の図の三角形の面積は、それぞれ何 cm^2 ですか。

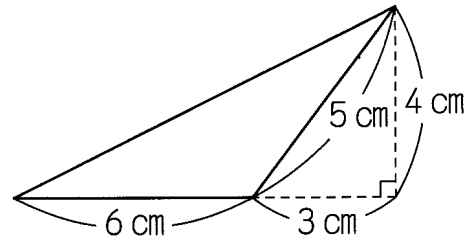
(1)



(2)

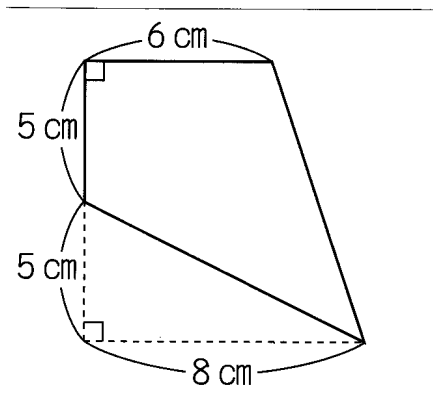


(3)



例題3

右の四角形の面積は何 cm^2 ですか。



例題4

右の図は、長方形の中に直線を2本引いたものです。三角形アと四角形イの面積が等しいとすると、□の長さは何 cm ですか。

