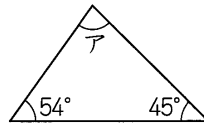


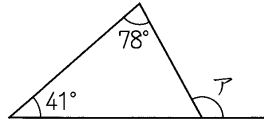
例題1

右の図のアの角の大きさは何度ですか。



例題2

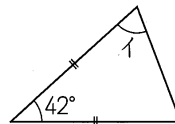
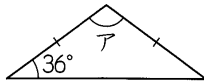
右の図のアの角の大きさは何度ですか。



例題3

右の図の三角形で、同じ印がついている辺の長さは等しくなっています。

(1) アの角の大きさは何度ですか。

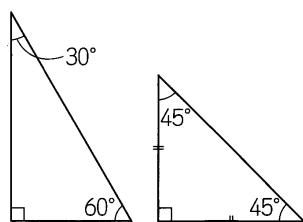


(2) イの角の大きさは何度ですか。

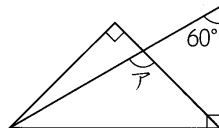
例題4

1組の三角定規は、(図1)のような直角三角形と直角二等辺三角形でできています。(図2)は1組の三角定規を組み合わせたものです。アの角の大きさは何度ですか。

(図1)



(図2)



例題5

右の図の四角形ABCDは正方形で、三角形EBCは正三角形です。ア、イの角の大きさはそれぞれ何度ですか。

