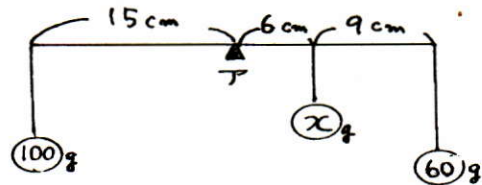


問1 図1で

- (1) Xは何gですか。
- (2) 支点アにかかる力は何gですか。

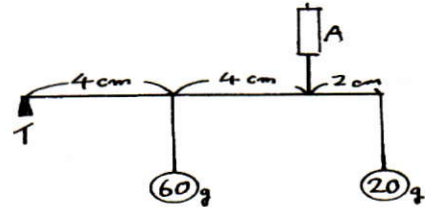
(図1)



問2 図2で

- (1) ばねはかり A にかかる力は何gですか。
- (2) 支点イにかかる力は何gですか。

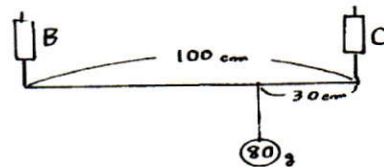
(図2)



問3 図3で

- (1) ばねはかり B にかかる力は何gですか。
- (2) ばねはかり C にかかる力は何gですか。

(図3)



問4 図4で

- (1) 支点ウにかかる力は何gですか。
- (2) 支点エにかかる力は何gですか。

(図4)

